



ĐỀ THI THỬ TỐT NGHIỆP THPT - SỞ THÁI BÌNH

Câu 1: [VNA] Sóng FM của đài Hà Nội có bước sóng $\lambda = 10 \text{ m}$. Tìm tần số f

- A. 100 MHz B. 30 MHz C. 80 MHz D. 60 MHz

Câu 2: [VNA] Một dòng điện có cường độ $i = 3\sqrt{2}\cos(100\pi t + \pi/3) \text{ (A)}$. Khẳng định nào sau đây là sai?

- A. Cường độ dòng điện cực đại bằng $3\sqrt{2} \text{ A}$. B. Tại thời điểm $t = 0$, cường độ dòng điện $i = 0$.
 C. Cường độ hiệu dụng bằng 3A D. Tần số dòng điện là 50 Hz.

Câu 3: [VNA] Trong hiện tượng sóng dừng trên dây đàn hồi, khoảng cách giữa hai nút sóng liên tiếp bằng

- A. một phần tư bước sóng. B. hai lần bước sóng.
 C. một nửa bước sóng. D. một bước sóng.

Câu 4: [VNA] Vật thật đặt vuông góc với trục chính của một thấu kính hội tụ có tiêu cự f và cách thấu kính một khoảng $2f$ thì ảnh của nó là

- A. ảnh thật bằng vật. B. ảnh ảo lớn hơn vật.
 C. ảnh thật nhỏ hơn vật. D. ảnh thật lớn hơn vật.

Câu 5: [VNA] Giả sử sau 3 giờ phóng xạ (kể từ thời điểm ban đầu) số hạt nhân của một đồng vị phóng xạ còn lại bằng 25% số hạt nhân ban đầu. Chu kỳ bán rã của đồng vị phóng xạ đó bằng

- A. 1 giờ B. 2 giờ C. 0,5 giờ D. 1,5 giờ.

Câu 6: [VNA] Trong thí nghiệm Y-âng về giao thoa ánh sáng, hai khe hẹp cách nhau một khoảng $a = 0,5 \text{ mm}$, khoảng cách từ mặt phẳng chứa hai khe đến màn quan sát là $D = 1,5 \text{ m}$. Hai khe được chiếu bằng bức xạ có bước sóng $\lambda = 0,6 \mu\text{m}$. Tính khoảng vân giao thoa

- A. 0,6 mm B. 2 mm C. 1,8 mm D. 4 mm

Câu 7: [VNA] Chọn câu đúng.

- A. Số chỉ của ampe kế chỉ giá trị tức thời của dòng điện xoay chiều.
 B. Số chỉ của ampe kế chỉ giá trị hiệu dụng của dòng điện xoay chiều.
 C. Số chỉ của ampe kế chỉ giá trị cực đại của dòng điện xoay chiều.
 D. Số chỉ của ampe kế chỉ giá trị trung bình của dòng điện xoay chiều.

Câu 8: [VNA] Năng lượng của một photon được xác định theo biểu thức

- A. $\epsilon = \frac{c\lambda}{h}$ B. $\epsilon = \frac{h\lambda}{c}$ C. $\epsilon = h\lambda$ D. $\epsilon = \frac{hc}{\lambda}$

Câu 9: [VNA] Trong thí nghiệm Iâng về giao thoa của ánh sáng đơn sắc, hai khe hẹp cách nhau 1 mm, mặt phẳng chứa hai khe cách màn quan sát 1,5 m. Khoảng cách giữa 5 vân sáng liên tiếp là 3,6 mm. Bước sóng của ánh sáng dùng trong thí nghiệm này bằng

- A. 0,40 μm B. 0,76 μm C. 0,60 μm D. 0,48 μm

Câu 10: [VNA] Dây AB căng nằm ngang dài 2 m, hai đầu A và B cố định, tạo một sóng dừng trên dây với tần số 50 Hz, trên đoạn AB thấy có 5 nút sóng. Tốc độ truyền sóng trên dây là

- A. $v = 50 \text{ m/s}$ B. $v = 100 \text{ m/s}$ C. $v = 12,5 \text{ cm/s}$ D. $v = 25 \text{ cm/s}$

Câu 11: [VNA] Hạt nhân $^{226}_{88}\text{Ra}$ biến đổi thành hạt nhân $^{222}_{86}\text{Rn}$ do phóng xạ

- A. α và β^- B. β^+ C. β^- D. α

Câu 12: [VNA] Nếu tăng khoảng cách giữa hai điện tích điểm lên 3 lần thì lực tương tác tĩnh điện giữa chúng sẽ

- A. Tăng 3 lần. B. Giảm 3 lần. C. Giảm 9 lần. D. Tăng 9 lần.

Câu 13: [VNA] Một hạt mang điện tích $q = 4.10^{-10} \text{ C}$, chuyển động với vận tốc 2.10^5 m/s trong từ trường đều. Mặt phẳng quỹ đạo của hạt vuông góc với véc tơ cảm ứng từ. Lực Lorenxơ tác dụng lên hạt là $f = 4.10^{-5} \text{ N}$. Cảm ứng từ B của từ trường là

- A. 0,2 T B. 0,5 T C. 0,05 T D. 0,02 T.

Câu 14: [VNA] Khi chiều dài dây treo tăng 4 lần thì chu kỳ con lắc đơn thay đổi như thế nào?

- A. Tăng 2 lần B. Tăng 4 lần C. Giảm 4 lần D. Giảm 2 lần.

Câu 15: [VNA] Tia hồng ngoại là những bức xạ có

- A. khả năng đâm xuyên mạnh, có thể xuyên qua lớp chì dày cỡ cm
 B. khả năng ion hoá mạnh không khí.
 C. bản chất là sóng điện từ
 D. bước sóng nhỏ hơn bước sóng của ánh sáng đỏ

Câu 16: [VNA] Mạch dao động điện từ gồm tụ $C = 16\text{nF}$ và cuộn cảm $L = 25\text{mH}$. Tần số góc dao động là

- A. $\omega = 200 \text{ rad/s}$ B. $\omega = 5.10^4 \text{ rad/s}$ C. $\omega = 5.10^{-5} \text{ rad/s}$ D. $\omega = 200 \text{ Hz}$

Câu 17: [VNA] Một con lắc lò xo dao động điều hòa. Biết lò xo có độ cứng 36 N/m và vật nhỏ có khối lượng 100g . Lấy $\pi^2 = 10$. Tần số dao động của vật là:

- A. 3 Hz B. 12 Hz C. 1 Hz D. 6 Hz.

Câu 18: [VNA] Một vật dao động điều hòa theo phương trình $x = 2\cos(4\pi t) \text{ cm}$, li độ của vật tại thời điểm $t = 0$ là

- A. -1 cm B. -2 cm C. 1 cm D. 2 cm .

Câu 19: [VNA] Mạch dao động điện từ gồm cuộn cảm L và tụ điện C, khi tăng điện dung của tụ điện lên 4 lần thì chu kỳ dao động của mạch

- A. tăng lên 4 lần B. giảm đi 4 lần C. giảm đi 2 lần D. tăng lên 2 lần

Câu 20: [VNA] Ở mặt chất lỏng có hai nguồn sóng A, B dao động theo phương thẳng đứng với phương trình là $u_A = u_B = 5\cos 50\pi t \text{ (cm)}$. Các điểm trên mặt nước thuộc đường trung trực của AB dao động với biên độ bằng

- A. 10 cm B. 0 C. 20 cm D. 5 cm

Câu 21: [VNA] Nguyên tắc hoạt động của máy phát điện xoay chiều một pha dựa vào

- A. khung dây chuyển động trong từ trường B. hiện tượng cảm ứng điện từ
 C. khung dây quay trong điện trường D. hiện tượng tự cảm

Câu 22: [VNA] Một chất điểm dao động điều hòa theo phương trình $x = 5\cos(5\pi t + \pi) \text{ (cm)}$. Chu kỳ của dao động là

- A. 0,6 s B. 0,2 s C. 0,4 s D. 2,5 s

Câu 23: [VNA] Đơn vị đo cường độ âm là

- A. Ben (B). B. Oát trên mét (W/m).
 C. Niuton trên mét vuông (N/m²). D. Oát trên mét vuông (W/m²).

Câu 24: [VNA] Sóng cơ truyền trong một môi trường dọc theo trục Ox với phương trình $u = 4\cos(20t - 4\pi x) \text{ (cm)}$ (trong đó x tính bằng mét, t tính bằng giây). Biên độ sóng bằng:

- A. $4\pi \text{ cm}$ B. 4 cm C. 2 cm D. 20 cm

Câu 25: [VNA] Sóng dọc

- A. truyền được qua mọi chất, kể cả chân không B. không truyền được trong chất rắn.
 C. truyền được trong chất rắn, lỏng và khí. D. chỉ truyền được trong chất rắn.

Câu 26: [VNA] Theo mẫu nguyên tử Bo, bán kính quỹ đạo K của êlectron trong nguyên tử hiđrô là r_0 . Khi êlectron chuyển từ quỹ đạo N về quỹ đạo L thì bán kính quỹ đạo giảm bớt

- A. $9r_0$ B. $12r_0$ C. $4r_0$ D. $16r_0$

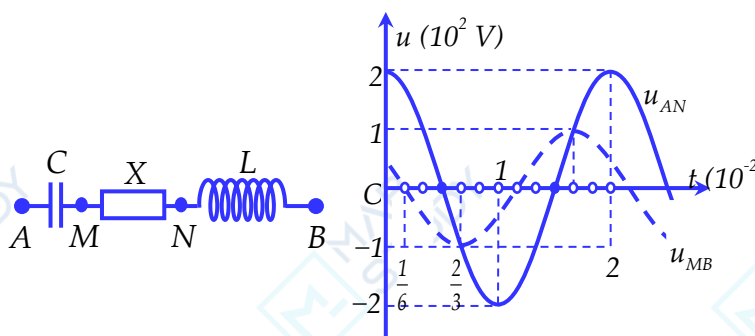
Câu 27: [VNA] Hạt nhân càng bền vững khi có

- A. năng lượng liên kết riêng càng lớn B. số nuclôn càng nhỏ
 C. năng lượng liên kết càng lớn D. số nuclôn càng lớn

Câu 28: [VNA] Hai dao động điều hòa cùng phương, cùng tần số có phương trình $x_1 = A_1 \cos(\omega t - \pi/6)$ (cm) và $x_2 = A_2 \cos(\omega t - \pi)$ (cm). Dao động tổng hợp có phương trình $x = 9 \cos(\omega t - \varphi)$ (cm). Để biên độ A_2 có giá trị cực đại thì A_1 có giá trị

- A. $15\sqrt{3}$ cm. B. 7 cm. C. $9\sqrt{3}$ cm. D. $18\sqrt{3}$ cm.

Câu 29: [VNA] Đặt điện áp xoay chiều ổn định vào hai đầu đoạn mạch AB mắc nối tiếp (hình vẽ). Biết tụ điện có dung kháng Z_C , cuộn cảm thuần có cảm kháng Z_L và $3Z_L = 2Z_C$. Đồ thị biểu diễn sự phụ thuộc vào thời gian của điện áp giữa hai đầu đoạn mạch AN và điện áp giữa hai đầu đoạn mạch MB như hình vẽ. Điện áp hiệu dụng giữa hai điểm M và N là



- A. 122 V B. 102 V C. 173 V D. 86 V

Câu 30: [VNA] Hạt nhân X phóng xạ biến đổi thành hạt nhân bền Y. Ban đầu ($t = 0$), có một mẫu chất X nguyên chất. Tại thời điểm t_1 và t_2 tỉ số giữa số hạt nhân Y và số hạt nhân X ở trong mẫu tương ứng là 2 và 3. Tại thời điểm $t_3 = 2t_1 + 3t_2$ tỉ số đó là

- A. 575 B. 107 C. 17 D. 72.

Câu 31: [VNA] Nguồn điện có suất điện động $E = 8,4$ V, điện trở trong $r = 0,2 \Omega$, mắc với $R = 5,4 \Omega$ thành mạch kín, cường độ dòng điện trong mạch là

- A. 1,56 A B. 1,1 A C. 1,2 A D. 1,5 A

Câu 32: [VNA] Một trạm phát điện xoay chiều có công suất không đổi, truyền điện đi xa với điện áp hai đầu dây tại nơi truyền đi là 200kV thì công suất hao phí là 30%. Nếu tăng điện áp truyền tải lên 500kV thì công suất hao phí là:

- A. 12% B. 7,5% C. 2,4% D. 4,8%.

Câu 33: [VNA] Quang điện trở hoạt động dựa vào nguyên tắc nào?

- A. Hiện tượng nhiệt điện B. Hiện tượng quang điện trong
 C. Hiện tượng cảm ứng điện từ D. Hiện tượng quang điện ngoài

Câu 34: [VNA] Đoạn mạch RLC mắc vào mạng điện tần số f_1 thì cảm kháng $Z_L = 36 \Omega$; và dung kháng $Z_C = 144 \Omega$. Nếu mạng điện có tần số $f_2 = 120\text{Hz}$ thì cường độ dòng điện cùng pha với hiệu điện thế ở hai đầu đoạn mạch. Giá trị của f_1 là:

- A. 100Hz B. 60Hz C. 50Hz D. 85Hz

Câu 35: [VNA] Công thoát electron ra khỏi kim loại $A = 6,625.10^{-19} \text{ J}$, hằng số Plăng $h = 6,625.10^{-34} \text{ Js}$, vận tốc ánh sáng trong chân không $c = 3.10^8 \text{ m/s}$. Giới hạn quang điện của kim loại đó là

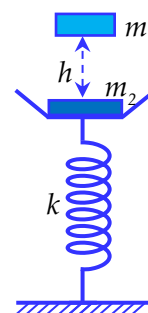
- A. 0,300 μm B. 0,375 μm C. 0,250 μm D. 0,295 μm

Câu 36: [VNA] Từ một trạm phát điện, người ta dùng máy tăng áp để truyền đi một công suất điện không đổi đến nơi tiêu thụ bằng đường dây tải điện một pha. Biết điện áp và cường độ dòng điện luôn cùng pha, điện áp hiệu dụng ở hai cực của máy phát không đổi. Ban đầu hiệu suất truyền tải là 92%. Giữ nguyên số vòng cuộn sơ cấp, nếu bớt số vòng thứ cấp n (vòng) thì hiệu suất quá trình truyền tải là 82%. Sau đó quấn thêm vào cuộn thứ cấp $2n$ (vòng) thì hiệu suất quá trình truyền tải là:

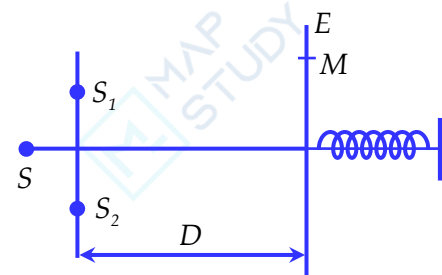
- A. 98,5% B. 94,25% C. 95,5% D. 97,12%

Câu 37: [VNA] Cho cơ hệ như hình vẽ, đĩa nhẹ, lò xo có khối lượng không đáng kể có độ cứng $k = 50\text{N/m}$, vật $m_1 = 200\text{g}$ vật $m_2 = 300\text{g}$. Khi m_2 đang cân bằng ta thả m_1 rơi tự do từ độ cao h (so với m_2). Sau va chạm m_1 dính chặt với m_2 , cả hai cùng dao động với biên độ $A = 7\text{cm}$, lấy $g = 10 \text{ m/s}^2$. Độ cao h là

- A. 26,25cm
B. 32,81cm
C. 10,31cm
D. 6,25cm



Câu 38: [VNA] Thí nghiệm giao thoa lằng với ánh sáng đơn sắc có bước sóng $0,6\mu\text{m}$ khoảng cách giữa hai khe S_1, S_2 là 1mm . Màn quan sát E gắn với một lò xo và có thể dao động điều hòa dọc theo trục đối xứng của hệ. Ban đầu màn E ở vị trí cân bằng là vị trí mà lò xo không biến dạng, lúc này khoảng cách từ mặt phẳng chứa hai khe đến màn quan sát E là $D = 2\text{m}$. Truyền cho màn E vận tốc ban đầu hướng ra xa mặt phẳng chứa hai khe để màn dao động điều hòa theo phương ngang với biên độ $A = 40 \text{ cm}$ và chu kỳ $T = 2,4 \text{ s}$. Tính thời gian ngắn nhất kể từ lúc màn E dao động đến khi điểm M trên màn cách vân trung tâm $5,4 \text{ mm}$ cho vân sáng lần thứ ba?



- A. 1,4 s B. 1,2 s C. 1,8 s D. 1,6 s.

Câu 39: [VNA] Số proton trong hạt nhân ${}_{92}^{238}\text{U}$ là bao nhiêu?

- A. 92 B. 146 C. 330 D. 238.

Câu 40: [VNA] Trong hiện tượng giao thoa sóng nước, hai nguồn dao động theo phương vuông góc với mặt nước, cùng biên độ, cùng pha, cùng tần số 50 Hz được đặt tại hai điểm S_1 và S_2 . cách nhau 10cm . Tốc độ truyền sóng trên mặt nước là 75 cm/s . Xét các điểm trên mặt nước thuộc đường tròn tâm S_1 , bán kính S_1S_2 , điểm mà phần tử tại đó dao động với biên độ cực đại cách điểm S_2 một đoạn ngắn nhất bằng

- A. 15 mm B. 85 mm C. 89 mm D. 10 mm.

 HẾT